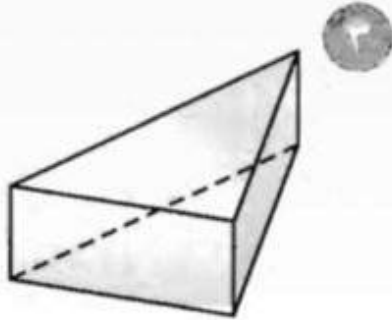
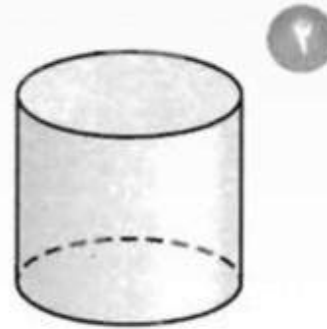


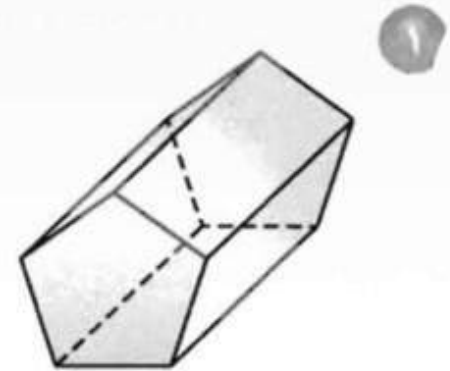
حدّد شكل قاعدة كلّ مما يلي، ثم صنّفه:



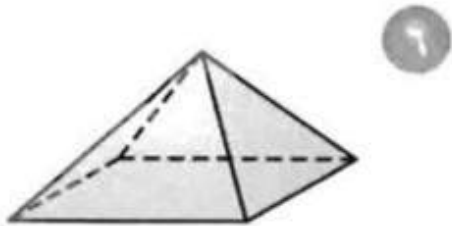
مثلث؛ منشور ثلاثي



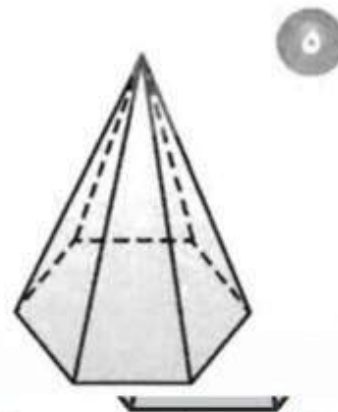
دائرة؛ أسطوانة



خماسي؛ منشور خماسي



مستطيل؛ هرم رباعي

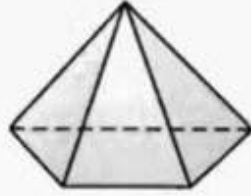


سداسي؛ هرم سداسي

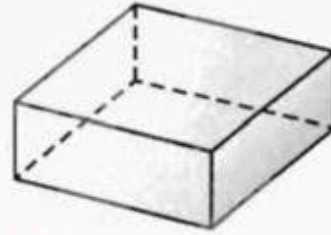


دائرة؛ مخروط





شبه منحرف؛ هرم رباعي



مستطيل؛ متوازي مستطيلات




لا يوجد؛ كرة

شموع؛ ما الشكل الذي تمثله الشمعة؟



أسطوانة

يتكوّن الشكل المجاور من شكلين ثلاثيي الأبعاد. ما هما؟



متوازي مستطيلات، وهرم رباعي

